

### 3. IL CALCOLO CON I NUMERI COMPLESSI

► Teoria a pag. 784

#### L'addizione e la sottrazione

##### 50 ESERCIZIO GUIDA

Eseguiamo l'addizione e la sottrazione fra  $4 + 3i$  e  $-5 + 2i$ .

##### Addizione

$$(4 + 3i) + (-5 + 2i) =$$

Sommiamo tra loro le parti reali e le parti immaginarie:

$$= (4 - 5) + (3i + 2i) = -1 + 5i.$$

##### Sottrazione

$$(4 + 3i) - (-5 + 2i) =$$

Trasformiamo la sottrazione in un'addizione, cambiando il segno del sottraendo:

$$= (4 + 3i) + (5 - 2i) =$$

Procediamo come nel caso dell'addizione:

$$= (4 + 5) + (3i - 2i) = 9 + i.$$

Esegui le seguenti addizioni e sottrazioni fra numeri complessi.

**51**  $(4 + 2i) + (4 - 2i);$

$(6 - 3i) + (-6 + 3i);$

$(2 + 7i) + (-12i) + 7.$

**52**  $\left(\frac{1}{3} + \frac{1}{2}i\right) + \left(\frac{1}{3} - \frac{1}{2}i\right);$

$\left(\frac{1}{3} + \frac{1}{2}i\right) - \left(\frac{1}{3} - \frac{1}{2}i\right);$

$(-9 - i) + (2 + i) - (-5 + 2i).$

**53**  $(2 - 3i) - \left(\frac{1}{7}i\right);$

$\frac{3}{4}i + \left(2 - \frac{1}{3}i\right);$

$\left(\frac{1}{2} - 6i\right) - \left(\frac{3}{2} + 6i\right) + 2i.$

**54**  $\left(-\frac{1}{2} - \frac{1}{2}i\right) + \left(-\frac{1}{2} - \frac{1}{2}i\right);$

$\left(\frac{2}{5} - \frac{5}{3}i\right) - \left(\frac{2}{5} - \frac{5}{3}i\right);$

$(-2i) - (-4 + 7i) - (-5i).$

#### La moltiplicazione

##### 55 ESERCIZIO GUIDA

Moltiplichiamo i seguenti numeri complessi:

a)  $2 - 3i$  e  $-6 + i$ ;    b)  $3 - 2i$  e  $3 + 2i$ .

a)  $(2 - 3i)(-6 + i) =$

Utilizziamo la regola di moltiplicazione di due binomi (senza dimenticare che  $i$  è un numero e  $i^2 = -1$ ):

$$= -12 + 2i + 18i - 3i^2 = -12 + 20i + 3 = -9 + 20i.$$

b) I numeri dati sono complessi coniugati. Il loro prodotto è un numero complesso reale:

$(3 - 2i)(3 + 2i) =$

Poiché  $(a - b)(a + b) = a^2 - b^2$ :

$= 9 - 4i^2 = 9 + 4 = 13.$

Esegui le seguenti moltiplicazioni fra numeri complessi.

**56**  $(1 - i)(1 + i);$

$(2 - 3i)(2 + 3i).$

**58**  $(6 + 3i)(6 + 2i);$

$(-7 + 2i)(7 + 2i).$

**57**  $(2 - 5i)(1 + i);$

$(8 + 2i)(-4 - 2i).$

**59**  $\left(\frac{1}{2} - \frac{1}{3}i\right)(2 + 3i);$

$\left(\frac{4}{5} + \frac{2}{3}i\right)\left(-\frac{5}{4} - \frac{3}{2}i\right).$

## La divisione

### 60 ESERCIZIO GUIDA

Eseguiamo la divisione fra i numeri complessi  $2 + i$  e  $1 - i$ .

Scriviamo il quoziente sotto forma di frazione:

$$\frac{2+i}{1-i} =$$

Moltiplichiamo numeratore e denominatore per il complesso coniugato del denominatore, ossia  $1 + i$ , ed eseguiamo i calcoli:

$$= \frac{2+i}{1-i} \cdot \frac{1+i}{1+i} = \frac{2+2i+i+i^2}{1-i^2} = \frac{2+3i-1}{1+1} = \frac{1+3i}{2} =$$

Separiamo la parte reale dalla parte immaginaria. Il quoziente cercato è:

$$= \frac{1}{2} + \frac{3}{2}i.$$

Calcola i seguenti quozienti fra numeri complessi.

<u>61</u>	$(1+i) : i;$	$2 : i;$	$1 : (3-2i).$	<u>63</u>	$\frac{73}{8-3i};$	$\frac{40}{4+2i};$	$\frac{22i}{3-i}.$
<u>62</u>	$\frac{3+4i}{2i};$	$\frac{-6-2i}{5i};$	$\frac{8-3i}{2i}.$	<u>64</u>	$\frac{1-i}{2+i};$	$\frac{2-i}{2+3i};$	$\frac{3-i}{3+2i}.$

## La potenza

### Il quadrato

#### 65 ESERCIZIO GUIDA

Calcoliamo il quadrato di  $-2 - i$ .

$$(-2-i)^2 =$$

Applichiamo la regola del quadrato di un binomio  $(a+b)^2 = a^2 + b^2 + 2ab$ :

$$= 4 + i^2 + 4i =$$

Sostituiamo  $-1$  a  $i^2$ :

$$= 4 - 1 + 4i = 3 + 4i.$$

Calcola il quadrato dei seguenti numeri complessi.

<u>66</u>	$1+i;$	$1-i;$	$-1+i.$
<u>67</u>	$1+2i;$	$1-2i;$	$-1+2i.$
<u>68</u>	$-\frac{1}{2} - \frac{1}{2}i;$	$\frac{1}{4} - i;$	$-5 - \frac{1}{5}i.$
<u>69</u>	$2-3i;$	$\frac{1}{\sqrt{2}} - \sqrt{2}i;$	$\frac{3}{2} - 2i.$

## Il cubo

**70** ESERCIZIO GUIDACalcoliamo il cubo di  $5 - 2i$ .

$$(5 - 2i)^3 =$$

Sviluppiamo il cubo del binomio, applicando la regola  $(a + b)^3 = a^3 + 3a^2b + 3ab^2 + b^3$ :

$$= 5^3 + 3 \cdot (5^2)(-2i) + 3 \cdot (5) \cdot (-2i)^2 + (-2i)^3 = 125 - 150i + 15 \cdot 4i^2 - 8i^3 =$$

Teniamo presente che  $i^2 = -1$  e  $i^3 = -i$ :

$$= 125 - 150i - 60 + 8i = 65 - 142i.$$

Calcola il cubo dei seguenti numeri complessi.

**71**  $1 + i; \quad 1 - i; \quad 2 + i.$

**72**  $2 + 3i; \quad 3 - 2i; \quad 1 - 5i.$

**Espressioni con i numeri complessi**

Calcola il valore delle seguenti espressioni.

**73**  $3 + 2i - \frac{5}{4} - \left(\frac{2}{5} - \frac{1}{3}\right)i - \left(2 - \frac{1}{2}\right) + \frac{16}{15}i \quad \left[\frac{1}{4} + 3i\right]$

**74**  $(3 + 2i)(3 - 2i) + (2 - 4i)3i - (6 + 2i)^2 \quad [- (7 + 18i)]$

**75**  $\left[(2 - 3i) \cdot \frac{13}{2 + 3i} - (4 + 3i) \left(\frac{4}{25} - \frac{3}{25}i\right)\right] : 12 \quad 10]$

**76**  $\left(\frac{1 + 2i}{i - 1} + \frac{39i}{2 + 3i} - \frac{19}{2}\right) \cdot 2i + 6i \quad [-9 + 6i]$

**77**  $\frac{(2i^{28} - i^{45})^2}{2i^{41}} \quad \left[-2 - \frac{3}{2}i\right]$

**78**  $\frac{3 + i}{2 - i} - \frac{i - 2}{3 - i} + (i - 1)(i + 2) - i \quad \left[\frac{9i - 13}{10}\right]$

**79**  $(2 + 3i)(2 - 3i) - (3 + i)^2 + i(3 - 2i) - 6(i + 2) \quad [-5 - 9i]$

**80**  $\frac{9 + 7i}{2 + i} + \frac{-2i^4 + 3i^3 - 2i^2 + 3i}{3 - 2i} \quad [5 + i]$

**81**  $\frac{4i}{1 - 2i} + \frac{1 - i}{1 + 2i} + \frac{12}{5} \quad \left[\frac{3 + i}{5}\right]$

**87**  $\frac{1}{2 - i} + \frac{1 - i}{i(1 + i)} \quad \left[\frac{i - 3}{5}\right]$

**82**  $\frac{1 - i}{1 - i^2} + \frac{1}{1 - i} + \frac{1 - 2i}{2i} \quad \left[-\frac{i}{2}\right]$

**88**  $\left(\frac{1 - i}{2i - 1}\right)^2 + \frac{2i}{1 - 2i} \quad \left[\frac{16i - 12}{25}\right]$

**83**  $\frac{1 + i}{(2 - i)^2} - \frac{i}{2 + i} \quad \left[\frac{-3i - 6}{25}\right]$

**89**  $\frac{(2i)^2 - (1 + i)^2}{i(2 + 3i)} - i(2 - i) \quad \left[\frac{-5 - 12i}{13}\right]$

**84**  $\frac{3 - 4i}{i} \cdot (1 + i) - 2 \quad [-7i - 3]$

**90**  $\left(\frac{2 - i}{3 - 4i}\right)^3 + (1 - i)^2 \quad \left[\frac{2 - 239i}{125}\right]$

**85**  $(1 - i)(3 - 2i) - \frac{i}{4 - 2i} \quad \left[\frac{11 - 52i}{10}\right]$

**91**  $\frac{2i}{(2 - i)^2} - (1 - i)^2 - \frac{i(1 + i)}{2} \quad \left[\frac{9 + 87i}{50}\right]$

**86**  $(1 + i)^3 - \frac{(1 - i)^2}{i} \quad [2i]$

**92**  $\frac{1 - i^2}{1 + i^4} - \frac{i^5}{i(i - 1)} - 2i \quad \left[\frac{3 - 3i}{2}\right]$

- 93**  $\frac{18i^{18} + 7i^6}{(2i^{52} + i^{53})^2} \cdot \frac{4i^{36} - 2i^{20}}{(2i^8 + i^7 - i^{20})^2}$  [4 + 3i]
- 94**  $\frac{3i^{10}}{(2 - i^{21})^2} + \frac{\sqrt{2}i}{(3 - i)^2}$   $\left[ \frac{-18 - 3\sqrt{2}}{50} + \frac{2\sqrt{2} - 12}{25}i \right]$
- 95**  $(3 - 2i)(3 + 2i) + (1 - 3i)^2 + (1 - i)^3$  [3 - 8i]
- 96**  $\left(\frac{3}{5} - \frac{4}{5}i\right)\left(\frac{3}{5} + \frac{4}{5}i\right) + \frac{i(2 - i)}{(\sqrt{3} + \sqrt{3}i)^2} - (1 + 2i)^3$   $\left[ \frac{74 + 11i}{6} \right]$
- 97**  $(1 + i)^5 + 4i$  [-4]
- 98**  $4\frac{2 - i}{3 + i} - i^{28} + \left[ \frac{2i}{i - 1}(4 - i) - (2i + 1)^2 \right] \cdot 2i$  [19 + 10i]
- 99**  $\frac{5(1 + 2i)(1 - 2i)}{(2i - 1)^2} \cdot \frac{9i^{24}i^{17}}{(3i^{14} + i^{47} - 2i)^2} - \frac{5}{i - 2}$  [-4 + 9i]
- 100**  $\frac{3i}{2 + i} - \frac{i - 1}{2 - i} - \frac{3(2 - i)}{2i + 1} + 2(i - 3)^2 + (i + 1)(1 - i) - \frac{1}{5}$  [19 - 8i]
- 101**  $6i^{12} + \frac{i^{15} + 1}{3 - i^{13}} - 7i - \frac{4 - 2i}{i^{21}} + (2 - 3i)i^{11} - \frac{2 - i}{5}$  [5(1 - i)]
- 102**  $\frac{1 + 2i}{3 - 2i} + \frac{1 - i}{1 + 2i} + \frac{1 - i}{5} - \frac{i(i - 1)}{13}$   $\left[ -\frac{7}{65}i \right]$
- 103**  $\frac{i(1 + i)}{2 - i} - \frac{3 + 2i}{1 - 2i} - (2 - i)(2 + 3i)i$   $\left[ \frac{18 - 42i}{5} \right]$
- 104**  $(1 + i)\left(\frac{2}{3 + i} - \frac{1 + i}{3 - i}\right) + i(i + 2)$   $\left[ \frac{9}{5}i \right]$

**105 ASSOCIA** a ogni espressione il relativo risultato.

- |                       |                      |
|-----------------------|----------------------|
| 1) $(4 - i)(3 + 2i)$  | a) $\frac{i + 1}{2}$ |
| 2) $\frac{i}{1 + i}$  | b) 0                 |
| 3) $(-1 - i)^2$       | c) $14 + 5i$         |
| 4) $(i^4 - 1)(i + 1)$ | d) $2i$              |
| 5) $i^8 + i^{20}$     | e) 2                 |

**106** Dato il numero complesso  $z = 2 + i$ , determina  $\bar{z}$ ,  $|z|$ ,  $\bar{z} + z$ ,  $\bar{z}$ . [2 - i,  $\sqrt{5}$ , 4,  $\sqrt{5}$ ]

**107** Considera il numero complesso  $z = 3 - 4i$ . Calcola  $\bar{z}$ ,  $z \cdot \bar{z}$ ,  $|\bar{z}|^2$ ,  $|z + \bar{z}|$ . [3 - 4i, 25, 25, 6]

**108** Trova per quali valori di  $k$  il prodotto  $(k + 3 + ki) \cdot (1 - 2ki)$  risulta un numero reale.  $\left[ 0, -\frac{5}{2} \right]$

**109** Calcola per quale valore di  $a$  il prodotto  $(a - 2 + 3ai) \cdot (1 - i)^2$  risulta un numero immaginario. [0]

**110** Trova il coniugato del numero complesso  $z$ , essendo  $z = \frac{2 - 3i}{1 + i}$ .  $\left[ -\frac{1}{2} + \frac{5}{2}i \right]$

· 3i]  
 2i]  
 · 8i]  
 1i]  
 -4]  
 10i]  
 9i]  
 8i]  
 · i]  
 5i]  
 2i]  
 5i]  
 .....  
 5]  
 2]  
 [0]  
 · z,  
 1i]

**111** Considera  $z_1 = a + ib$  e  $z_2 = c + id$  e i loro coniugati  $\bar{z}_1$  e  $\bar{z}_2$ .  
 Dimostra che:  
 a)  $\overline{z_1 + z_2} = \bar{z}_1 + \bar{z}_2$ ;  
 b)  $\overline{z_1 \cdot z_2} = \bar{z}_1 \cdot \bar{z}_2$ ;  
 c)  $\overline{z_1^{-1}} = (\bar{z}_1)^{-1}$ .

**112** Dato  $z = \frac{2i - 2}{(1 + \sqrt{3}i)(1 + i)}$ , trova:  
 a) il suo modulo;  
 b) il suo coniugato;  
 c) il suo opposto.  
 [a) 1; b)  $\frac{\sqrt{3}}{2} - \frac{1}{2}i$ ; c)  $-\frac{\sqrt{3}}{2} - \frac{1}{2}i$ ]

**113 TEST** Dati  $z_1 = k + 1 + i(k - 1)$  e  $z_2 = 2k - ki$ , indica il valore di  $k$  per cui  $\frac{z_1}{z_2}$  è un numero reale.  
**A**  $\frac{1}{3}$ .  
**B**  $-3$ .  
**C**  $0$  e  $-3$ .  
**D**  $0$  e  $\frac{1}{3}$ .  
**E**  $\forall k \neq 0$ .

**114 TEST** Il prodotto  $(x - 2i)(1 - x + xi)$  è un numero immaginario per  $x$  uguale a:  
**A**  $-3, 0$ . **D**  $3$ .  
**B**  $-1 \pm \sqrt{3}$ . **E**  $0$ .  
**C**  $0, 3$ .

**115** Dato il numero complesso  $z = 2 - 2i$ , calcola  $|z|$ ,  $z^2$ ,  $z^3$ ,  $(\bar{z})^3 - z \cdot z^2$ .  
 [2√2, -8i, -16 - 16i, 32i]

**116 VERO O FALSO?** Dato il numero complesso  $z$ , si ha:  
 a)  $\bar{\bar{z}} = z$ . **V** **F**  
 b)  $|z \cdot \bar{z}| = |z| \cdot |\bar{z}|$ . **V** **F**  
 c)  $\left| \frac{z}{\bar{z}} \right| = 1$ . **V** **F**  
 d)  $3\bar{z} = \overline{3z}$ . **V** **F**  
 e)  $z^2 = (\bar{z})^2$ . **V** **F**

**117** Dato il numero  $z = a + 2 - 2i$ , trova  $a$  in modo che:  
 a)  $z^2$  sia un numero reale;  
 b)  $\bar{z}^2$  sia un numero immaginario;  
 c)  $z \cdot \bar{z} = 13$ .  
 [a)  $-2$ ; b)  $0, -4$ ; c)  $1; -5$ ]

## 4. LA RAPPRESENTAZIONE GEOMETRICA DEI NUMERI COMPLESSI

► Teoria a pag. 786

### Il piano di Gauss

Rappresenta nel piano di Gauss i seguenti numeri complessi.

**118**  $-1 - i$ ;  $2i$ ;  $-4$ ;  $4 + i$ .

**119**  $6i$ ;  $1 + i$ ;  $\frac{1}{2} - i$ ;  $1 - 3i$ .

**120** Dati i seguenti punti nel piano di Gauss, scrivi i numeri complessi a essi associati.

$A(1; 0)$ ,  $B(-2; -4)$ ,  $C(0; -3)$ ,  $D(-\frac{1}{2}; 1)$ ,  $E(2; -5)$ ,  $F(1; \frac{1}{2})$ .

**121** Dati i seguenti numeri complessi, determina i loro coniugati e rappresenta entrambi nel piano di Gauss. Cosa noti?

$3 + i$ ,  $-2 - i$ ,  $-4 + 2i$ ,  $1 - 3i$ .

**122** Come nell'esercizio precedente, ma considerando gli opposti dei numeri complessi.

$2 - 5i$ ,  $-3 - 2i$ ,  $4 + i$ ,  $-1 + 3i$ .

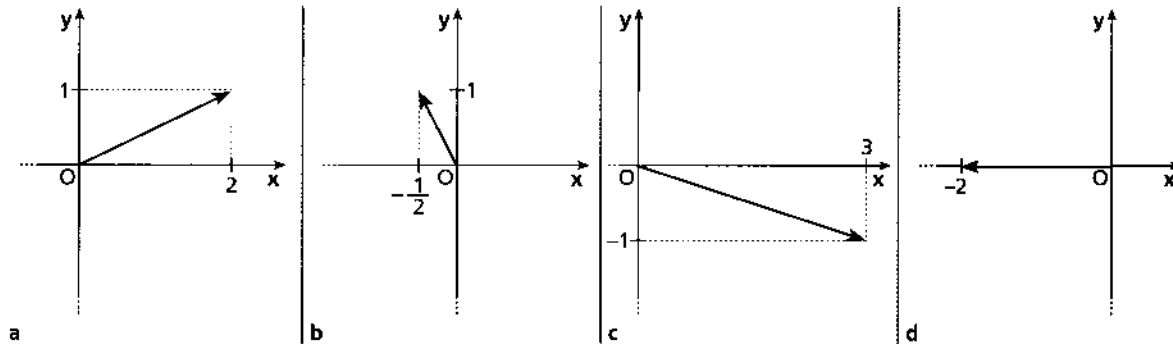
## I vettori e i numeri complessi

Rappresenta il vettore associato a ogni numero complesso.

**123**  $2 - i$ ;  $i$ ;  $4 + 2i$ ;  $3$ .

**124**  $2i$ ;  $\frac{1}{2} + 4i$ ;  $\frac{1+i}{3}$ ;  $6 - 2i$ .

**125** Determina il numero complesso associato a ogni vettore.



**126** Considera i numeri complessi  $6 + i$  e  $-1 + 5i$ . Rappresenta i vettori associati, determina la loro somma con la regola del parallelogramma e verifica che il vettore ottenuto è associato alla somma dei numeri dati.

**127** Il vettore corrispondente al numero complesso opposto di  $a + bi$  è opposto al vettore individuato da  $a + bi$ . Verificalo.

**128** Disegna nel piano cartesiano i vettori aventi per componenti le seguenti coppie di numeri.

$(1; -2)$ ,  $(2; 5)$ ,  $(3; -1)$ ,  $(-4; -6)$ ,  $(7; 1)$ .

## Le coordinate polari

**129** Individua nei vettori dell'esercizio precedente il modulo e l'argomento.

Dalle coordinate polari alle coordinate cartesiane

### 130 ESERCIZIO GUIDA

Trasformiamo le coordinate polari del punto  $P\left(4; \frac{\pi}{4}\right)$  in coordinate cartesiane.

Le formule di trasformazione in coordinate cartesiane sono:

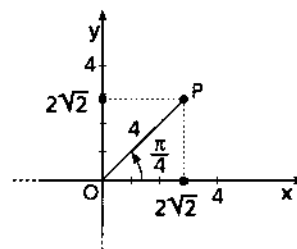
$$\begin{cases} x_P = r \cos \alpha \\ y_P = r \sin \alpha \end{cases}$$

Pertanto

$$x_P = 4 \cos \frac{\pi}{4} = 4 \frac{\sqrt{2}}{2} = 2\sqrt{2},$$

$$y_P = 4 \sin \frac{\pi}{4} = 4 \frac{\sqrt{2}}{2} = 2\sqrt{2}.$$

Il punto  $P$  ha coordinate cartesiane  $(2\sqrt{2}; 2\sqrt{2})$ .



Trasforma in coordinate cartesiane le coordinate polari dei seguenti punti.

**131**  $A\left(1; \frac{\pi}{6}\right), \quad B\left(2; \frac{\pi}{3}\right), \quad C\left(1; \frac{2}{3}\pi\right), \quad D\left(4; \frac{\pi}{2}\right), \quad E\left(2; \frac{11}{6}\pi\right).$

**132**  $P\left(6; \frac{5}{6}\pi\right), \quad Q\left(1; \frac{3}{2}\pi\right), \quad R\left(\frac{1}{2}; 2\pi\right), \quad S\left(\frac{1}{4}; \pi\right), \quad T\left(3; \frac{4}{3}\pi\right).$

Dalle coordinate cartesiane alle coordinate polari

**133 ESERCIZIO GUIDA**

Trasformiamo in coordinate polari le coordinate cartesiane del punto  $Q(-3\sqrt{2}; 3\sqrt{2})$ .

Le formule di trasformazione sono:

$$r = \sqrt{x_0^2 + y_0^2},$$

$$\operatorname{tg} \alpha = \frac{y_0}{x_0}.$$

Calcoliamo  $r$ :

$$r = \sqrt{(-3\sqrt{2})^2 + (3\sqrt{2})^2} = \sqrt{18 + 18} = \sqrt{36} = 6.$$

Calcoliamo  $\alpha$ :

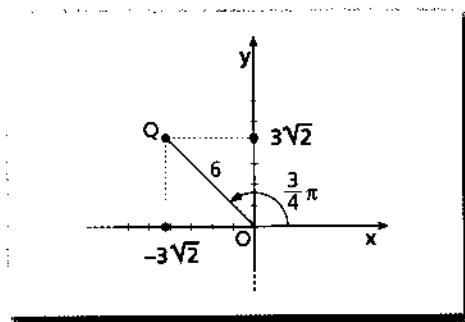
$$\operatorname{tg} \alpha = \frac{3\sqrt{2}}{-3\sqrt{2}} = -1, \text{ da ci\o{o } } \alpha = \frac{3}{4}\pi + k\pi.$$

Poich\e ci troviamo nel secondo quadrante, scegliamo:

$$\alpha = \frac{3}{4}\pi.$$

La trasformazione richiesta \e la seguente:

coordinate cartesiane	coordinate polari
$Q(-3\sqrt{2}; 3\sqrt{2})$	$\rightarrow Q\left(6; \frac{3}{4}\pi\right)$



Trasforma in coordinate polari le coordinate cartesiane dei seguenti punti.

**134**  $A(4\sqrt{3}; 4), \quad B(0; 2), \quad C(5\sqrt{2}; 5\sqrt{2}), \quad D\left(\frac{1}{4}; \frac{\sqrt{3}}{4}\right), \quad E\left(-\frac{1}{4}; 0\right).$   
 $\left[ A\left(8; \frac{\pi}{6}\right), B\left(2; \frac{\pi}{2}\right), C\left(10; \frac{\pi}{4}\right), D\left(\frac{1}{2}; \frac{\pi}{3}\right), E\left(\frac{1}{4}; \pi\right) \right]$

**135**  $A\left(-\frac{3\sqrt{3}}{2}; \frac{3}{2}\right), \quad B\left(-\frac{1}{6}; -\frac{\sqrt{3}}{6}\right), \quad C\left(\frac{5\sqrt{3}}{2}; -\frac{5}{2}\right).$   
 $\left[ A\left(3; \frac{5}{6}\pi\right), B\left(\frac{1}{3}; \frac{4}{3}\pi\right), C\left(5; \frac{11}{6}\pi\right) \right]$

Dato il seguente numero complesso, rappresenta il corrispondente vettore  $\vec{OP}$  e determina le coordinate polari di  $P$ .

**136**  $4 - 4i$  **139**  $1 + \frac{5}{2}i$

**137**  $5i$  **140**  $2$

**138**  $-2 + 2\sqrt{3}i$  **141**  $-\sqrt{3} - i$

Determina modulo e argomento dei seguenti numeri complessi.

- 142**  $5 - 5i$ ;  $6i$ ;  $-8$ ;  $3\pi$ .  $\left[5\sqrt{2}, \frac{7}{4}\pi; 6, \frac{\pi}{2}; 8, \pi; 3\pi, 0\right]$   
**143**  $1 - \sqrt{3}i$ ;  $2\sqrt{3} - 2i$ ;  $-5i$ ;  $2$ .  $\left[2, \frac{5}{3}\pi; 4, \frac{11}{6}\pi; 5, \frac{3\pi}{2}; 2, 0\right]$

## 5. LA FORMA TRIGONOMETRICA DI UN NUMERO COMPLESSO

► Teoria a pag. 790

### 144 ESERCIZIO GUIDA

Scriviamo  $1 - i$  in forma trigonometrica.

Dobbiamo scrivere  $1 - i$  nella forma  $r \cos \alpha + i r \sin \alpha$ .

Calcoliamo  $r = \sqrt{a^2 + b^2}$ :

$$r = \sqrt{1^2 + (-1)^2} = \sqrt{2}.$$

Calcoliamo  $\alpha$ :

$$\operatorname{tg} \alpha = \frac{b}{a} = \frac{-1}{1} = -1 \rightarrow \alpha_1 = \frac{5}{4}\pi \vee \alpha_2 = \frac{7}{4}\pi.$$

Scegliamo  $\alpha = \frac{7}{4}\pi$  perché il punto corrispondente al numero complesso si trova nel quarto quadrante.

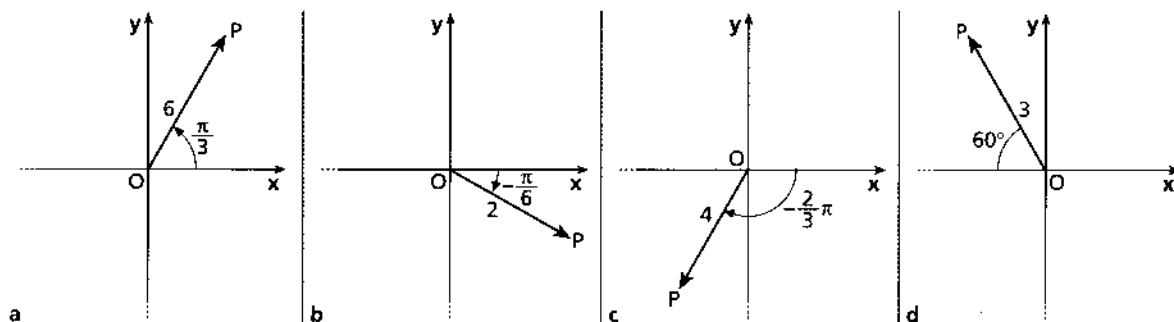
La forma trigonometrica di  $1 - i$  è quindi:

$$\sqrt{2} \left( \cos \frac{7}{4}\pi + i \operatorname{sen} \frac{7}{4}\pi \right).$$

Scrivi i seguenti numeri complessi in forma trigonometrica.

- 145**  $6\sqrt{2} + 6\sqrt{2}i$ ;  $-2i$ .  $\left[12 \left( \cos \frac{\pi}{4} + i \operatorname{sen} \frac{\pi}{4} \right); 2 \left( \cos \frac{3}{2}\pi + i \operatorname{sen} \frac{3}{2}\pi \right)\right]$   
**146**  $\frac{3}{4} + \frac{3\sqrt{3}}{4}i$ ;  $-2\sqrt{2} + 2\sqrt{2}i$ .  $\left[\frac{3}{2} \left( \cos \frac{\pi}{3} + i \operatorname{sen} \frac{\pi}{3} \right); 4 \left( \cos \frac{3}{4}\pi + i \operatorname{sen} \frac{3}{4}\pi \right)\right]$   
**147**  $-\frac{1}{4}$ ;  $\frac{1}{2} + \frac{\sqrt{3}}{2}i$ .  $\left[\frac{1}{4} \left( \cos \pi + i \operatorname{sen} \pi \right); \cos \frac{\pi}{3} + i \operatorname{sen} \frac{\pi}{3}\right]$   
**148**  $-\sqrt{3} - i$ ;  $-\sqrt{3}$ .  $\left[2 \left( \cos \frac{7}{6}\pi + i \operatorname{sen} \frac{7}{6}\pi \right); \sqrt{3} \left( \cos \pi + i \operatorname{sen} \pi \right)\right]$   
**149**  $2 - 2\sqrt{3}i$ ;  $1$ .  $\left[4 \left( \cos \frac{5}{3}\pi + i \operatorname{sen} \frac{5}{3}\pi \right); \cos 0 + i \operatorname{sen} 0\right]$

**150** Scrivi in forma trigonometrica i numeri complessi individuati dai vettori delle figure.





Esprimi in forma algebrica i seguenti numeri complessi.

- 151  $\sqrt{3}\left(\cos\frac{5}{6}\pi + i\operatorname{sen}\frac{5}{6}\pi\right);$   $2\left(\cos\frac{3}{4}\pi - i\operatorname{sen}\frac{3}{4}\pi\right).$   $\left[-\frac{3}{2} + \frac{\sqrt{3}}{2}i; -\sqrt{2} - \sqrt{2}i\right]$
- 152  $8(\cos\pi - i\operatorname{sen}\pi);$   $4\left(\cos\frac{7}{6}\pi + i\operatorname{sen}\frac{7}{6}\pi\right).$   $[-8; -2\sqrt{3} - 2i]$
- 153  $2\sqrt{2}\left(\cos\frac{13}{4}\pi + i\operatorname{sen}\frac{13}{4}\pi\right);$   $\cos\frac{7}{2}\pi + i\operatorname{sen}\frac{7}{2}\pi.$   $[-2 - 2i; -i]$
- 154  $\frac{\sqrt{3}}{2}\left(\cos\frac{8}{3}\pi - i\operatorname{sen}\frac{8}{3}\pi\right);$   $6\sqrt{2}\left(\cos\frac{5}{4}\pi + i\operatorname{sen}\frac{5}{4}\pi\right).$   $\left[-\frac{\sqrt{3}}{4} - \frac{3}{4}i; -6 - 6i\right]$

## 6. OPERAZIONI FRA NUMERI COMPLESSI IN FORMA TRIGONOMETRICA

► Teoria a pag. 791

### La moltiplicazione

#### ESERCIZIO GUIDA

Calcoliamo il prodotto dei seguenti numeri complessi e scriviamo il risultato in forma algebrica:

$$z_1 = \frac{1}{2}\left(\cos\frac{2}{3}\pi + i\operatorname{sen}\frac{2}{3}\pi\right) \text{ e } z_2 = \frac{2}{3}\left(\cos\frac{5}{6}\pi + i\operatorname{sen}\frac{5}{6}\pi\right).$$

Ricordiamo che, se  $z_1 = r(\cos\alpha + i\operatorname{sen}\alpha)$  e  $z_2 = s(\cos\beta + i\operatorname{sen}\beta)$ , il loro prodotto è

$$z_1 z_2 = rs[\cos(\alpha + \beta) + i\operatorname{sen}(\alpha + \beta)],$$

quindi, essendo  $r = \frac{1}{2}$ ,  $s = \frac{2}{3}$ ,  $\alpha = \frac{2}{3}\pi$ ,  $\beta = \frac{5}{6}\pi$ , si ha:

$$z_1 z_2 = \left(\frac{1}{2} \cdot \frac{2}{3}\right) \left[\cos\left(\frac{2}{3}\pi + \frac{5}{6}\pi\right) + i\operatorname{sen}\left(\frac{2}{3}\pi + \frac{5}{6}\pi\right)\right] = \frac{1}{3}\left(\cos\frac{3}{2}\pi + i\operatorname{sen}\frac{3}{2}\pi\right).$$

Poiché  $\cos\frac{3}{2}\pi = 0$  e  $\operatorname{sen}\frac{3}{2}\pi = -1$ , sostituendo:

$$z_1 z_2 = \frac{1}{3}[0 + i(-1)] = -\frac{1}{3}i.$$

Calcola il prodotto dei seguenti numeri complessi e scrivi il risultato in forma algebrica.

- 156  $z_1 = 2\left(\cos\frac{\pi}{6} + i\operatorname{sen}\frac{\pi}{6}\right),$   $z_2 = \frac{1}{2}\left(\cos\frac{\pi}{3} + i\operatorname{sen}\frac{\pi}{3}\right).$   $[z_1 z_2 = i]$
- 157  $z_1 = \frac{4}{3}\left(\cos\frac{5}{6}\pi + i\operatorname{sen}\frac{5}{6}\pi\right),$   $z_2 = \frac{1}{2}\left(\cos\frac{\pi}{3} + i\operatorname{sen}\frac{\pi}{3}\right).$   $\left[z_1 z_2 = -\frac{\sqrt{3}}{3} - \frac{1}{3}i\right]$
- 158  $z_1 = \sqrt{3}\left(\cos\frac{\pi}{3} + i\operatorname{sen}\frac{\pi}{3}\right),$   $z_2 = \frac{\sqrt{3}}{2}\left(\cos\frac{5}{6}\pi + i\operatorname{sen}\frac{5}{6}\pi\right).$   $\left[z_1 z_2 = -\frac{3\sqrt{3}}{4} - \frac{3}{4}i\right]$
- 159  $z_1 = \left(\cos\frac{3}{4}\pi + i\operatorname{sen}\frac{3}{4}\pi\right),$   $z_2 = 2\left(\cos\frac{11}{4}\pi + i\operatorname{sen}\frac{11}{4}\pi\right).$   $[z_1 z_2 = -2i]$
- 160  $z_1 = \frac{\sqrt{2}}{2}\left(\cos\frac{11}{6}\pi + i\operatorname{sen}\frac{11}{6}\pi\right),$   $z_2 = \sqrt{3}\left(\cos\frac{\pi}{4} + i\operatorname{sen}\frac{\pi}{4}\right).$   $\left[z_1 z_2 = \frac{3 + \sqrt{3}}{4} + i\frac{3 - \sqrt{3}}{4}\right]$
- 161  $z_1 = \sqrt{2}\left(\cos\frac{2}{3}\pi + i\operatorname{sen}\frac{2}{3}\pi\right),$   $z_2 = \frac{\sqrt{3}}{2}\left(\cos\frac{5}{4}\pi + i\operatorname{sen}\frac{5}{4}\pi\right).$   $\left[z_1 z_2 = \frac{3 + \sqrt{3}}{4} + i\frac{-3 + \sqrt{3}}{4}\right]$
- 162  $z_1 = \sqrt{2}\left(\cos\frac{\pi}{3} + i\operatorname{sen}\frac{\pi}{3}\right),$   $z_2 = 3\left(\cos\frac{\pi}{4} + i\operatorname{sen}\frac{\pi}{4}\right),$   $z_3 = \frac{2}{5}\left(\cos\frac{\pi}{6} + i\operatorname{sen}\frac{\pi}{6}\right).$   $\left[z_1 z_2 z_3 = -\frac{6}{5} + \frac{6}{5}i\right]$

Calcola i seguenti prodotti sia in forma algebrica sia in forma trigonometrica e verifica l'uguaglianza dei risultati.

$$\underline{163} \quad (1+i)(\sqrt{3}-\sqrt{3}i); \quad i(2-2i). \quad [2\sqrt{3}; 2+2i]$$

$$\underline{164} \quad (8-8i)(-3+3i); \quad 2i(1+\sqrt{3}i). \quad [48i; -2\sqrt{3}+2i]$$

$$\underline{165} \quad (4+4i)(-3-3i); \quad 6i(1+i). \quad [-24i; -6+6i]$$

$$\underline{166} \quad (\sqrt{3}-i)(1+\sqrt{3}i); \quad (1-i)(\sqrt{3}-i). \quad [2\sqrt{3}+2i; (\sqrt{3}-1)+i(-1-\sqrt{3})]$$

## La divisione

### 167 ESERCIZIO GUIDA

Calcoliamo il quoziente dei seguenti numeri complessi e scriviamo il risultato in forma algebrica:

$$z_1 = 6\left(\cos\frac{7}{4}\pi + i\operatorname{sen}\frac{7}{4}\pi\right) \text{ e } z_2 = 2\left(\cos\frac{\pi}{2} + i\operatorname{sen}\frac{\pi}{2}\right).$$

Se  $z_1 = r(\cos\alpha + i\operatorname{sen}\alpha)$  e  $z_2 = s(\cos\beta + i\operatorname{sen}\beta)$ , il loro quoziente è:

$$\frac{z_1}{z_2} = \frac{r}{s} [\cos(\alpha - \beta) + i\operatorname{sen}(\alpha - \beta)].$$

In questo modo otteniamo:

$$\frac{z_1}{z_2} = \frac{6}{2} \left[ \cos\left(\frac{7}{4}\pi - \frac{\pi}{2}\right) + i\operatorname{sen}\left(\frac{7}{4}\pi - \frac{\pi}{2}\right) \right] = 3\left(\cos\frac{5}{4}\pi + i\operatorname{sen}\frac{5}{4}\pi\right).$$

Per scrivere la soluzione in forma algebrica ricordiamo che  $\cos\frac{5}{4}\pi = -\frac{\sqrt{2}}{2}$  e  $\operatorname{sen}\frac{5}{4}\pi = -\frac{\sqrt{2}}{2}$ , quindi:

$$\frac{z_1}{z_2} = 3\left(-\frac{\sqrt{2}}{2} - i\frac{\sqrt{2}}{2}\right) = -\frac{3\sqrt{2}}{2} - \frac{3\sqrt{2}}{2}i.$$

Calcola il quoziente fra i seguenti numeri complessi e scrivi il risultato in forma algebrica.

$$\underline{168} \quad z_1 = \cos\frac{7}{4}\pi + i\operatorname{sen}\frac{7}{4}\pi, \quad z_2 = \cos\frac{3}{4}\pi + i\operatorname{sen}\frac{3}{4}\pi. \quad \left[\frac{z_1}{z_2} = -1\right]$$

$$\underline{169} \quad z_1 = \cos\frac{7}{6}\pi + i\operatorname{sen}\frac{7}{6}\pi, \quad z_2 = \cos\frac{5}{6}\pi + i\operatorname{sen}\frac{5}{6}\pi. \quad \left[\frac{z_1}{z_2} = \frac{1}{2} + \frac{\sqrt{3}}{2}i\right]$$

$$\underline{170} \quad z_1 = 2\sqrt{2}\left(\cos\frac{\pi}{3} + i\operatorname{sen}\frac{\pi}{3}\right), \quad z_2 = 4\left(\cos\frac{\pi}{4} + i\operatorname{sen}\frac{\pi}{4}\right). \quad \left[\frac{z_1}{z_2} = \frac{1+\sqrt{3}}{4} - i\frac{1-\sqrt{3}}{4}\right]$$

$$\underline{171} \quad z_1 = 2\sqrt{2}\left(\cos\frac{11}{6}\pi + i\operatorname{sen}\frac{11}{6}\pi\right), \quad z_2 = \cos\frac{\pi}{4} + i\operatorname{sen}\frac{\pi}{4}. \quad \left[\frac{z_1}{z_2} = -1 + \sqrt{3} - (1 + \sqrt{3})i\right]$$

$$\underline{172} \quad z_1 = \sqrt{2}\left(\cos\frac{\pi}{6} + i\operatorname{sen}\frac{\pi}{6}\right), \quad z_2 = \cos\frac{7}{4}\pi + i\operatorname{sen}\frac{7}{4}\pi. \quad \left[\frac{z_1}{z_2} = \frac{-1+\sqrt{3}}{2} + \frac{1+\sqrt{3}}{2}i\right]$$

$$\underline{173} \quad z_1 = (\sqrt{3}+1)\left(\cos\frac{7}{6}\pi + i\operatorname{sen}\frac{7}{6}\pi\right), \quad z_2 = 2\sqrt{2}\left(\cos\frac{5}{4}\pi + i\operatorname{sen}\frac{5}{4}\pi\right). \quad \left[\frac{z_1}{z_2} = \frac{2+\sqrt{3}}{4} - i\frac{1}{4}\right]$$

Calcola, utilizzando la forma trigonometrica, il reciproco di ognuno dei seguenti numeri complessi.

$$\underline{174} \quad \frac{\sqrt{3}}{4} + \frac{1}{4}i; \quad \frac{1}{2} + \frac{1}{2}i. \quad [\sqrt{3} - i; 1 - i]$$

$$\underline{175} \quad -\frac{1}{2} - \frac{1}{2}i; \quad -\frac{3}{2} + \frac{\sqrt{3}}{2}i. \quad \left[-1 + i; -\frac{1}{2} - \frac{\sqrt{3}}{6}i\right]$$

- 176**  $-\frac{3}{2} - \frac{\sqrt{3}}{2}i$ ;  $\frac{\sqrt{3}}{4} - \frac{3}{4}i$ ;  $\left[-\frac{1}{2} + \frac{\sqrt{3}}{6}i; \frac{\sqrt{3}}{3} + i\right]$   
**177**  $2\sqrt{2} - 2\sqrt{2}i$ ;  $-1 + \sqrt{3}i$ ;  $\left[\frac{\sqrt{2}}{8} + \frac{\sqrt{2}}{8}i; -\frac{1}{4} - \frac{\sqrt{3}}{4}i\right]$   
 Calcola i seguenti quozienti sia in forma algebrica sia in forma trigonometrica e verifica l'uguaglianza dei risultati.  
**178**  $\frac{1 - i\sqrt{3}}{\sqrt{3} + i}$ ;  $\frac{4 - 4i}{6 + 6i}$ ;  $\left[-i; -\frac{2}{3}i\right]$   
**179**  $\frac{5 + 5i}{2i}$ ;  $\frac{-8i}{1 - \sqrt{3}i}$ ;  $\left[\frac{5}{2} - \frac{5}{2}i; 2\sqrt{3} - 2i\right]$   
**180**  $\frac{\sqrt{3} - 3i}{3 + \sqrt{3}i}$ ;  $\frac{\sqrt{2} - \sqrt{2}i}{1 + i}$ ;  $[-i; -\sqrt{2}i]$

### La potenza con esponente intero positivo

#### 181 ESERCIZIO GUIDA

Calcoliamo

$$\left[2\left(\cos \frac{2}{3}\pi + i \operatorname{sen} \frac{2}{3}\pi\right)\right]^5$$

ed esprimiamo il risultato ottenuto in forma algebrica.

Se  $z = r(\cos \alpha + i \operatorname{sen} \alpha)$ , possiamo applicare la formula di De Moivre:

$$[r(\cos \alpha + i \operatorname{sen} \alpha)]^n = r^n(\cos n\alpha + i \operatorname{sen} n\alpha).$$

Nel nostro caso è  $n = 5$ , quindi:

$$\left[2\left(\cos \frac{2}{3}\pi + i \operatorname{sen} \frac{2}{3}\pi\right)\right]^5 = 2^5 \left[\cos\left(5 \frac{2}{3}\pi\right) + i \operatorname{sen}\left(5 \frac{2}{3}\pi\right)\right] = 32\left(\cos \frac{10}{3}\pi + i \operatorname{sen} \frac{10}{3}\pi\right) =$$

essendo  $\frac{10}{3}\pi = \frac{4}{3}\pi + \frac{6}{3}\pi = \frac{4}{3}\pi + 2\pi$ :

$$= 32\left(\cos \frac{4}{3}\pi + i \operatorname{sen} \frac{4}{3}\pi\right).$$

$\cos \frac{4}{3}\pi = -\frac{1}{2}$ ,  $\operatorname{sen} \frac{4}{3}\pi = -\frac{\sqrt{3}}{2}$ , pertanto la forma algebrica del risultato ottenuto è:

$$32\left[-\frac{1}{2} + i\left(-\frac{\sqrt{3}}{2}\right)\right] = -\frac{32}{2} - \frac{32\sqrt{3}}{2}i = -16 - 16\sqrt{3}i.$$

Calcola le seguenti potenze di numeri complessi ed esprimi il risultato in forma algebrica.

- 182**  $\left[\frac{1}{2}\left(\cos \frac{\pi}{4} + i \operatorname{sen} \frac{\pi}{4}\right)\right]^6$ ;  $\left[-\frac{1}{64}i\right]$  **186**  $\left[2\left(\cos \frac{\pi}{9} + i \operatorname{sen} \frac{\pi}{9}\right)\right]^5$ ;  $[4 + 4\sqrt{3}i]$   
**183**  $\left[\frac{2}{\sqrt{5}}\left(\cos \frac{\pi}{8} + i \operatorname{sen} \frac{\pi}{8}\right)\right]^4$ ;  $\left[\frac{16}{25}i\right]$  **187**  $\left[2\left(\cos \frac{\pi}{10} + i \operatorname{sen} \frac{\pi}{10}\right)\right]^5$ ;  $[32i]$   
**184**  $\left[\sqrt[2]{3}\left(\cos \frac{\pi}{6} + i \operatorname{sen} \frac{\pi}{6}\right)\right]^6$ ;  $[-\sqrt{3}]$  **188**  $\left(\cos \frac{4}{3}\pi + i \operatorname{sen} \frac{4}{3}\pi\right)^6$ ;  $[1]$   
**185**  $\left[\frac{1}{2}\left(\cos \frac{4}{3}\pi + i \operatorname{sen} \frac{4}{3}\pi\right)\right]^3$ ;  $\left[\frac{1}{8}\right]$  **189**  $\left(\cos \frac{3}{4}\pi + i \operatorname{sen} \frac{3}{4}\pi\right)^4$ ;  $[-1]$

Calcola le seguenti potenze di numeri complessi in forma algebrica, dopo averli trasformati in forma trigonometrica.

<u>190</u>	$(\sqrt{2} - \sqrt{2}i)^4$	$[-16]$	<u>193</u>	$(\sqrt{3} + i)^4$	$[-8 + 8\sqrt{3}i]$
<u>191</u>	$(-2 - 2\sqrt{3}i)^3$	$[64]$	<u>194</u>	$\left(\frac{3}{2} - \frac{3\sqrt{3}}{2}i\right)^4$	$\left[-\frac{81}{2} + \frac{81\sqrt{3}}{2}i\right]$
<u>192</u>	$\left(-\frac{3}{2} + \frac{\sqrt{3}}{2}i\right)^3$	$[3\sqrt{3}i]$	<u>195</u>	$[(\sqrt{2} - \sqrt{6}) + (-\sqrt{2} - \sqrt{6})i]^{12}$	$[-4^{12}]$

## La potenza con esponente intero negativo

### 196 ESERCIZIO GUIDA

Calcoliamo

$$\left[2\left(\cos \frac{\pi}{6} + i \operatorname{sen} \frac{\pi}{6}\right)\right]^{-3},$$

esprimendo il risultato in forma algebrica.

Sappiamo che, se  $z = r(\cos \alpha + i \operatorname{sen} \alpha)$ , allora  $[r(\cos \alpha + i \operatorname{sen} \alpha)]^{-n} = \frac{1}{r^n}(\cos n\alpha - i \operatorname{sen} n\alpha)$ , quindi:

$$\left[2\left(\cos \frac{\pi}{6} + i \operatorname{sen} \frac{\pi}{6}\right)\right]^{-3} = \frac{1}{2^3}[\cos(3\frac{\pi}{6}) - i \operatorname{sen}(3\frac{\pi}{6})] = \frac{1}{8}\left(\cos \frac{\pi}{2} - i \operatorname{sen} \frac{\pi}{2}\right).$$

In forma algebrica il risultato è:

$$\frac{1}{8}\left(\cos \frac{\pi}{2} - i \operatorname{sen} \frac{\pi}{2}\right) = \frac{1}{8}[0 - i(1)] = -\frac{1}{8}i.$$

Calcola le seguenti potenze e scrivi il risultato in forma algebrica.

<u>197</u>	$\left[\sqrt{2}\left(\cos \frac{7}{4}\pi + i \operatorname{sen} \frac{7}{4}\pi\right)\right]^{-4}$	$\left[-\frac{1}{4}\right]$
<u>198</u>	$\left[\sqrt{3}\left(\cos \frac{2}{3}\pi + i \operatorname{sen} \frac{2}{3}\pi\right)\right]^{-3}$	$\left[\frac{\sqrt{3}}{9}\right]$
<u>199</u>	$\left[\sqrt{3}\left(\cos \frac{5}{6}\pi + i \operatorname{sen} \frac{5}{6}\pi\right)\right]^{-3}$	$\left[-\frac{\sqrt{3}}{9}i\right]$
<u>200</u>	$\left[2\left(\cos \frac{\pi}{6} + i \operatorname{sen} \frac{\pi}{6}\right)\right]^{-4}$	$\left[-\frac{1}{32} - \frac{\sqrt{3}}{32}i\right]$
<u>201</u>	$\left[\frac{1}{3}\left(\cos \frac{5}{3}\pi + i \operatorname{sen} \frac{5}{3}\pi\right)\right]^{-6}$	$[3^6]$
<u>202</u>	$\left[\frac{1}{2\sqrt{2}}\left(\cos \frac{5}{12}\pi + i \operatorname{sen} \frac{5}{12}\pi\right)\right]^{-12}$	$[-8^6]$

## RIEPILOGO

### Le espressioni con i numeri complessi in forma trigonometrica

Calcola il valore delle espressioni utilizzando i numeri  $z_1$  e  $z_2$  assegnati a fianco. Scrivi il risultato in forma algebrica.

<u>203</u>	$z_1^2 + z_2$ ;	$z_1 = \cos \frac{\pi}{3} + i \operatorname{sen} \frac{\pi}{3}$ ,	$z_2 = \cos \frac{4}{3}\pi + i \operatorname{sen} \frac{4}{3}\pi$ .	$[-1]$
<u>204</u>	$z_1 - z_2^3$ ;	$z_1 = \sqrt{2}\left(\cos \frac{\pi}{4} + i \operatorname{sen} \frac{\pi}{4}\right)$ ,	$z_2 = \cos \frac{\pi}{3} + i \operatorname{sen} \frac{\pi}{3}$ .	$[2 + i]$
<u>205</u>	$z_1^3 + z_2^2$ ;	$z_1 = \cos \frac{\pi}{6} + i \operatorname{sen} \frac{\pi}{6}$ ,	$z_2 = \cos \frac{\pi}{4} + i \operatorname{sen} \frac{\pi}{4}$ .	$[2i]$

- ica. **206**  $z_1^4 + z_2^2$ ;  $z_1 = \cos \frac{\pi}{12} + i \operatorname{sen} \frac{\pi}{12}$ ,  $z_2 = 3 \left( \cos \frac{\pi}{6} + i \operatorname{sen} \frac{\pi}{6} \right)$ .  $[5 + 5\sqrt{3}i]$
- $\sqrt{3}i]$  **207**  $z_1^3 + z_2^2$ ;  $z_1 = \sqrt{2} \left( \cos \frac{7}{4}\pi + i \operatorname{sen} \frac{7}{4}\pi \right)$ ,  $z_2 = 2\sqrt{2} \left( \cos \frac{5}{4}\pi + i \operatorname{sen} \frac{5}{4}\pi \right)$ .  $[-2 + 6i]$
- $\frac{3}{-i}]$  **208**  $z_1^3 + z_2^2$ ;  $z_1 = 2 \left( \cos \frac{5}{6}\pi + i \operatorname{sen} \frac{5}{6}\pi \right)$ ,  $z_2 = 2\sqrt{2} \left( \cos \frac{3}{4}\pi + i \operatorname{sen} \frac{3}{4}\pi \right)$ .  $[0]$
- $4^{12}]$  **209**  $z_1^6 + z_2^3$ ;  $z_1 = 2\sqrt{2} \left( \cos \frac{5}{12}\pi + i \operatorname{sen} \frac{5}{12}\pi \right)$ ,  $z_2 = \sqrt{2} \left( \cos \frac{5}{6}\pi + i \operatorname{sen} \frac{5}{6}\pi \right)$ .  $[2(256 + \sqrt{2})i]$
- 210**  $z_1^2 + \frac{1}{z_2}$ ;  $z_1 = \cos \frac{\pi}{3} + i \operatorname{sen} \frac{\pi}{3}$ ,  $z_2 = \cos \frac{5}{3}\pi + i \operatorname{sen} \frac{5}{3}\pi$ .  $[i\sqrt{3}]$
- 211**  $\frac{1}{z_1} + \frac{1}{z_2}$ ;  $z_1 = \sqrt{2} \left( \cos \frac{\pi}{4} + i \operatorname{sen} \frac{\pi}{4} \right)$ ,  $z_2 = \frac{\sqrt{3}}{3} \left( \cos \frac{\pi}{3} + i \operatorname{sen} \frac{\pi}{3} \right)$ .  $\left[ \frac{1 + \sqrt{3}}{2} - 2i \right]$
- 212**  $z_1^2 - \frac{1}{z_2^2}$ ;  $z_1 = 2 \left( \cos \frac{\pi}{6} + i \operatorname{sen} \frac{\pi}{6} \right)$ ,  $z_2 = \cos \frac{\pi}{4} + i \operatorname{sen} \frac{\pi}{4}$ .  $[2 + i(1 + 2\sqrt{3})]$
- 213**  $\frac{1}{z_1^2} + \frac{1}{z_2^2}$ ;  $z_1 = \frac{\sqrt{3}-1}{2} \left( \cos \frac{\pi}{12} + i \operatorname{sen} \frac{\pi}{12} \right)$ ,  $z_2 = \frac{\sqrt{3}-1}{2} \left( \cos \frac{23}{12}\pi + i \operatorname{sen} \frac{23}{12}\pi \right)$ .  $[2(3 + 2\sqrt{3})]$
- 214**  $\frac{1}{z_1^2} + \frac{1}{z_2^2}$ ;  $z_1 = \sqrt{2} \left( \cos \frac{5}{4}\pi + i \operatorname{sen} \frac{5}{4}\pi \right)$ ,  $z_2 = \frac{\sqrt{3}}{3} \left( \cos \frac{2}{3}\pi + i \operatorname{sen} \frac{2}{3}\pi \right)$ .  $\left[ -\frac{3}{2} + \frac{3\sqrt{3}-1}{2}i \right]$
- 215**  $\frac{1}{z_1^2} + \frac{1}{z_2^2}$ ;  $z_1 = \frac{\sqrt{2}}{4} \left( \cos \frac{7}{4}\pi + i \operatorname{sen} \frac{7}{4}\pi \right)$ ,  $z_2 = \sqrt{3} \left( \cos \frac{5}{6}\pi + i \operatorname{sen} \frac{5}{6}\pi \right)$ .  $\left[ \frac{-\sqrt{3} + 72}{9}i \right]$
- 216**  $z_1^6 + \frac{1}{z_2^2}$ ;  $z_1 = \cos \frac{5}{12}\pi + i \operatorname{sen} \frac{5}{12}\pi$ ,  $z_2 = \sqrt{3} \left( \cos \frac{7}{6}\pi + i \operatorname{sen} \frac{7}{6}\pi \right)$ .  $\left[ \frac{9 + \sqrt{3}}{9}i \right]$
- $\frac{1}{4}]$  **217**  $\frac{1}{z_1^2} + \frac{1}{z_2^2}$ ;  $z_1 = \frac{\sqrt{3}+1}{2} \left( \cos \frac{11}{12}\pi + i \operatorname{sen} \frac{11}{12}\pi \right)$ ,  $z_2 = \frac{\sqrt{3}+1}{2} \left( \cos \frac{13}{12}\pi + i \operatorname{sen} \frac{13}{12}\pi \right)$ .  $[2(-3 + 2\sqrt{3})]$
- $\frac{3}{9}]$  **218**  $z_1^2 z_2^4 - z_1^4$ ;  $z_1 = \cos \frac{\pi}{4} + i \operatorname{sen} \frac{\pi}{4}$ ,  $z_2 = \cos \frac{5}{4}\pi + i \operatorname{sen} \frac{5}{4}\pi$ .  $[1 - i]$
- $\frac{3}{-i}]$
- $\frac{1}{-i}]$

Semplifica le seguenti espressioni.

- $3^6]$  **219**  $\frac{1}{16}(1 + i)^6(\sqrt{3} + i)^4$ .  $[4(i + \sqrt{3})]$
- $8^6]$  **220**  $\frac{8}{9}\sqrt{3} \frac{(-\sqrt{3} - i)^4}{(-1 + i)^3}$ .  $\left[ \frac{16}{9}[i(3 + \sqrt{3}) + 3 - \sqrt{3}] \right]$
- 221**  $(-1 - i)^{10} : (\sqrt{3} - i)^5$ .  $\left[ \frac{-1 - \sqrt{3}i}{2} \right]$
- 222**  $(1 - i)^6 \cdot (2 + 2i)^4$ .  $[-512i]$
- 223**  $\frac{(1 + i)^4 \cdot (\sqrt{3} - i)^3}{(1 + i\sqrt{3})^8} i$ .  $\left[ \frac{1}{16}(1 + i\sqrt{3}) \right]$
- 224**  $\frac{\left(-\frac{\sqrt{2}}{2} + i\frac{\sqrt{2}}{2}\right)^4 (1 + i)^8}{\left(-\frac{1}{2} - \frac{\sqrt{3}}{2}i\right)^6} + (2i)^8$ .  $[240i]$
- ma
- 1]
- +i]
- 2i]